

2023年贵州事业单位招聘公基+行测+写作版

《综合知识》模拟试卷二

一、单选题

1. 工匠精神，是一种工匠对产品_____的理念，其内涵在于精益求精、注重细节、严谨专注。改革开放以来，中国制造业高速增长、雄冠全球，但高能耗、低技术、低创新、低附加值让“中国制造”难以真正_____。

填入画横线处最恰当的一项是：

- A.千锤百炼 力压群雄 B.精雕细琢 扬眉吐气
C.竭尽全力 脱颖而出 D.锲而不舍 名副其实

2. 许多历史学专业人士认为，使用传记来研究历史的做法很_____，很不可靠，忽视了社会因素，错误地以为是伟人创造了历史。而事实上，社会是无数人工作和生活的产物，因此历史就是无数传记的_____，优秀传记的秘密是弄清个人及其社会之间的关系。

填入画横线处最恰当的一项是：

- A.危险 集合 B.夸张 再现
C.业余 精华 D.失败 汇聚

3. 填入画横线部分最恰当的一项是：

(1) 任务重、工期紧、条件艰苦是水电建设的显著特征，对此，征战江河数十载，在水电站建设中屡建战功的中国水利水电第三工程局的员工早已_____。

(2) 依据职称的评定标准，教师们将注意力从正常的教学中转移了出来，时间久了，自然会对这套标准带来的戕害_____。当他们从这套标准中不断受益，就更难自觉做出反思和批判。

(3) 看着自然保护区随意丢弃的塑料袋、竹签和啤酒瓶，再看看环卫工人疲惫的身影，记者心里很不是滋味：禁止烧烤的标牌在不断增加，可就是有那么一些人_____，自觉自律真就这么困难吗？

- A. 习焉不察 习以为常 熟视无睹
- B. 习以为常 习焉不察 熟视无睹
- C. 熟视无睹 习焉不察 习以为常
- D. 习以为常 熟视无睹 习焉不察

4. 第二次世界大战后，多数先行国家的行政重心逐渐向社会福利管理转移，它们的人口基础管理，普遍形成了一种以“人口服务”为主的新体制。这种体制并没有放弃人口的管控，只是这种管控的核心目标是人口服务，基本手段是人口服务，表现形式也是人口服务。它将管控寓于服务之中，而不是相反。我国社会转型下的人口管理，显然也面临着类似的调整。

以下表述与这段文字意思不相符的是：

- A. 我国的人口管理应确立人口服务的管理宗旨
 - B. 人口管控与人口服务是完全不同的两种模式
 - C. 先行国家的人口管理转型是行政重心转移的结果
 - D. 人口管理的新体制通过人口服务实现人口管控
5. 这是中国式的隐忍，中国人像野草一样，即使遭遇地火焚烧的大灾难，他们仍然熬得住，挺得牢，来年春天，又会满山遍野绽放新绿。一个人可以有許多品德，但基本的品德，我认为是“熬”这个字。一个人懂得了“熬”，就说明他有信念，他有坚持，他有原则，咬紧牙关能熬下来，他就是一个人性英雄，虽败犹荣。

这段文字意在强调：

- A. 中国人的忍耐和坚强
 - B. 中国人的信念和原则
 - C. 中国人能够战胜任何灾难
 - D. 中国人的英雄气概
6. 互联网技术发展到了今天，理论上来说是可以做到“永不宕机”的，但事实上，宕机事故看起来无法避免。随着“国民级应用”增多，大家对技术的依赖程度越来越

高，面临的风险比以往任何时候都多。宕机影响的不仅是内部用户，连带还会影响到客户和合作伙伴的收入、信誉和生产力等各个方面。_____，因此它也被称为系统中的“黑天鹅”。当前大型互联网系统架构日趋复杂，稳定性风险也在升高，系统中一定会有一些“黑天鹅”潜伏着，只是还没被发现。然而，墨菲定律告诉我们“该出错的终究会出错”。

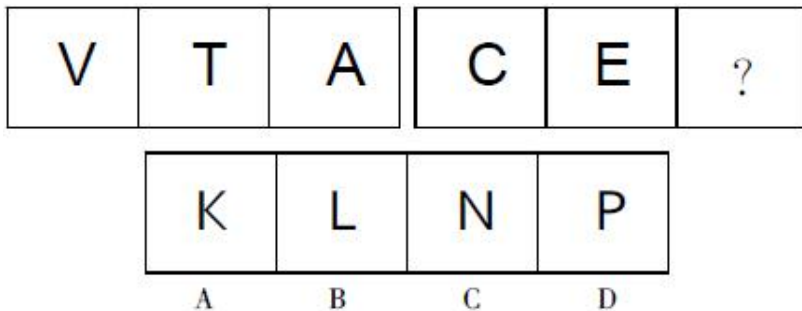
填入文中横线处最恰当的一项是：

- A.宕机事故不可避免
- B.宕机事故不可预测
- C.宕机事故影响重大
- D.宕机事故随时发生

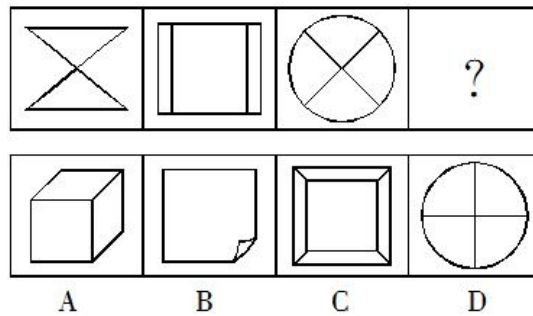
7. 月亮贪图什么好处，腹中竟有玉兔？后羿如何能得到不死仙药，又为什么不把它藏好？一首 1500 字的《天问》里，诗人屈原竟一口气问了 170 多个问题，集中反映了 2300 年前的天文学知识。1000 年后，唐代散文家柳宗元以《天对》来回应《天问》，“无极之极，莽弥非垠”，“东南西北，其极无方”，揭示出“无中无旁”的宇宙因为没有边界也就不存在所谓“中心”的科学道理。

这段话意在强调：

- A.科学艺术原本就是一对孪生兄妹
 - B.月亮成为艺术界中永不干涸的灵感源泉
 - C.伴随着艺术的畅想，科学思维同样火花四溅
 - D.严谨的科学和奔放的艺术永远是浪漫的交响
8. 请根据第一组图形的规律，判断第二组图形中缺少的一项是：



9. 请根据所给图形的既有规律，选出一个最合理的答案。



10. 潜伏需求是指相当一部分消费者对某种商品或服务有强烈的需求,而现有产品或服务又无法使之满足的一种需求状况。

根据上述定义, 以下最能体现“潜伏需求”的是:

- A. 某市所售楼盘多为三居室大户型, 让想在这里安家的工薪阶层望而却步
 - B. 某药厂推出的中药降糖保健品在部分程度上可以取代药品, 常供不应求
 - C. 目前市场上的防辐射孕妇装抵御电子产品辐射的有效率是多少尚不明确
 - D. 新型的电动游戏机带有护眼功能, 想必可以说服一些学生家长前来购买
11. 意识模糊是一种较嗜睡更重的意识障碍, 患者虽能保持简单的精神活动, 但对周围事物的刺激判断能力下降, 出现定向力障碍, 常伴有错觉和幻觉, 思维不连贯。

根据上述定义, 下列属于“意识模糊”的是:

- A. 患者睡眠时间过度延长, 但能被叫醒, 醒后意识基本正常
 - B. 患者处于沉睡状态, 较强刺激方可唤醒, 可作含糊、简单而不完全的答话
 - C. 患者意识完全丧失, 强刺激无法觉醒, 无法自主活动, 不能自发睁眼
 - D. 患者出现注意力不集中, 胡言乱语, 言语不连贯, 伴有片断的错觉
12. 网络暴力是指个人或团体在网络上, 通过文字、图片等形式对当事人进行攻击或侮辱的行为现象。

根据以上定义, 下面属于网络暴力的是:

- A. 某记者暗访知名酒店, 在网络上曝光其肮脏的后厨环境
- B. 某网民在电商平台上多次恶意给商家差评
- C. 某电影公司雇佣一群网民在网络上鼓吹其新上映的电影作品

- D.某汽车厂家发声明：声称报社对其车辆存在安全隐患的报道严重失实
13. 千篇一律：别具一格：独具匠心
- A.瞻前顾后：毫不犹豫：坚决果断
- B.改头换面：憨厚老实：三五成群
- C.三心二意：粗心大意：一心一意
- D.坚持不懈：锲而不舍：坚定不移
14. 裁缝：剪刀
- A.护士：医院
- B.农民：锄头
- C.粉笔：老师
- D.警察：小偷
15. 南瓜：茄子
- A.咖啡：红茶
- B.绘画：艺术
- C.浪漫：法国
- D.早春：春分
16. “读书无用论”越来越盛行。从前，人们推崇“万般皆下品，唯有读书高”，但当今社会受教育成本高昂，就业形势严峻，很多大学生面临“毕业即失业”。更有数据表明，超过一半的大学生的第一份工作的工资低于农民工的平均工资。所以，为数众多的人认为读书其实是无用的。
- 以下不能质疑“读书无用论”的是：
- A.很多大学生“失业”并不是找不到工作，而是选择性地等待更好的机会
- B.大学生的工资上涨空间大、速度快
- C.工资低不等同于“无用”
- D.“读书”的高期望和现实状况产生了矛盾
17. 人体每天产生的尿酸有30%来自饮食中的嘌呤，因此日常摄入的食物成分可能会影响血液循环中嘌呤的含量。高嘌呤、高果糖饮食导致尿酸生产过剩，增加痛风患病率。近年来，随着生活水平提升及饮食结构改变，长期不良饮食习惯导致痛风发病率呈上升趋势。
- 以下哪项如果为真，最能支持上述论证？

- A. 饮食会影响血液中嘌呤含量
- B. 高嘌呤、高果糖等不健康饮食会导致痛风患者增加
- C. 高嘌呤饮食会导致高尿酸
- D. 健康的饮食习惯会降低患痛风几率
18. 在桂林漓江一些有地下河流的岩洞中，有许多露出河流水面的石笋。这些石笋是由水滴常年滴落在岩石表面而逐渐积累的矿物质形成的。
- 如果上述断定为真，最能支持以下哪项结论？
- A. 过去漓江的江面比现在高
- B. 上述岩洞内地下河流的水比过去深
- C. 只有漓江的岩洞中才有地下河流
- D. 上述岩洞的地下河流是在石笋形成前出现的
19. 赵、钱、孙三个朋友一起打保龄球，他们的职业各不相同。其中一位是公司职员，一位是自由职业者，一位是公务员。三局保龄球打完，他们的成绩如下：赵比公司职员成绩好；公务员比自由职业者成绩差；钱的成绩最好。
- 由此可以推出：
- A. 赵是公务员
- B. 钱是公司职员
- C. 孙是自由职业者
- D. 三人的职业无法确定
20. 黄河流域等文明发源地的气候条件一般比较恶劣。相对严酷的自然条件要求人们更多地致力于生产经济，主动地调整自己的社会组织、发展自己的文化以适应生产的需要。因此认为，人类文明的发展是对困难的挑战而产生的结果。
- 所以：
- A. 人类文明一般都起源于自然条件较差的地区
- B. 只要是自然条件较差的地区就一定有人类文明
- C. 在自然条件较好的地区没有文明的发生
- D. 黄河文明是人类最早的文明
21. 1, 3, 6, 19, 30, 91, ()

- A.78 B.121 C.136 D.157
22. 50 名应聘者参加面试，第一轮面试同时获得两个以上考官的合格可进入第二轮面试，获得三个合格可以直接确定通过，其他人将被淘汰。第一轮面试中 A 考官共给出 26 个合格，乙考官给出 25 个合格，丙考官共给出 22 个合格，10 人没有得到任何一个考官的合格。第一轮面试共淘汰了 20 人，则直接确定通过面试的有() 人。
- A.2 B.3 C.4 D.5
23. 运到某受灾村庄的方便面、矿泉水、饼干等三种抗震救灾物资共 115 箱。当吃掉方便面数目的 $\frac{2}{3}$ 以及 20 箱矿泉水后，某民间团体又送来 5 箱饼干，此时村里的三种救灾物资箱数恰好一样多，则原来有矿泉水() 箱。
- A.35 B.40 C.45 D.50
24. 一批玩具，比进价高 200% 销售，一段时间后，六一儿童节促销，玩具按定价的 6 折销售，打折后这批玩具的价格比进价高百分之()。
- A.20 B.40 C.60 D.80
25. 已知 2022 年 10 月 1 日是星期六，那么 2023 年 6 月 1 日是：
- A.星期六 B.星期五 C.星期四 D.星期三

根据所给资料，回答 26-30 题。

2021 年 1-4 月份，某省全社会用电量 284.59 亿千瓦时，同比增长 7.9%。从不同产业看，第一产业用电量 6.36 亿千瓦时，同比增长 29.0%，增速比上年同期提高 6.2 个百分点；第二产业用电量 163.62 亿千瓦时，同比增长 7.0%；第三产业用电量 63.36 亿千瓦时，同比增长 13.5%，增速比上年同期提高 17.1 个百分点；城乡居民生活用电量 51.24 亿千瓦时，同比增长 2.6%，增速比上年同期回落 9.6 个百分点。

2021 年 4 月份某省全社会用电量 65.98 亿千瓦时，同比增长 6.5%。其中，第一产业用电量 1.38 亿千瓦时，同比增长 2.8%；第二产业用电量 37.82 亿千瓦时，同比增长 3.0%；

第三产业用电量 14.75 亿千瓦时，同比增长 3.0%；城乡居民生活用电 12.02 亿千瓦时，同比增长 4.1%。

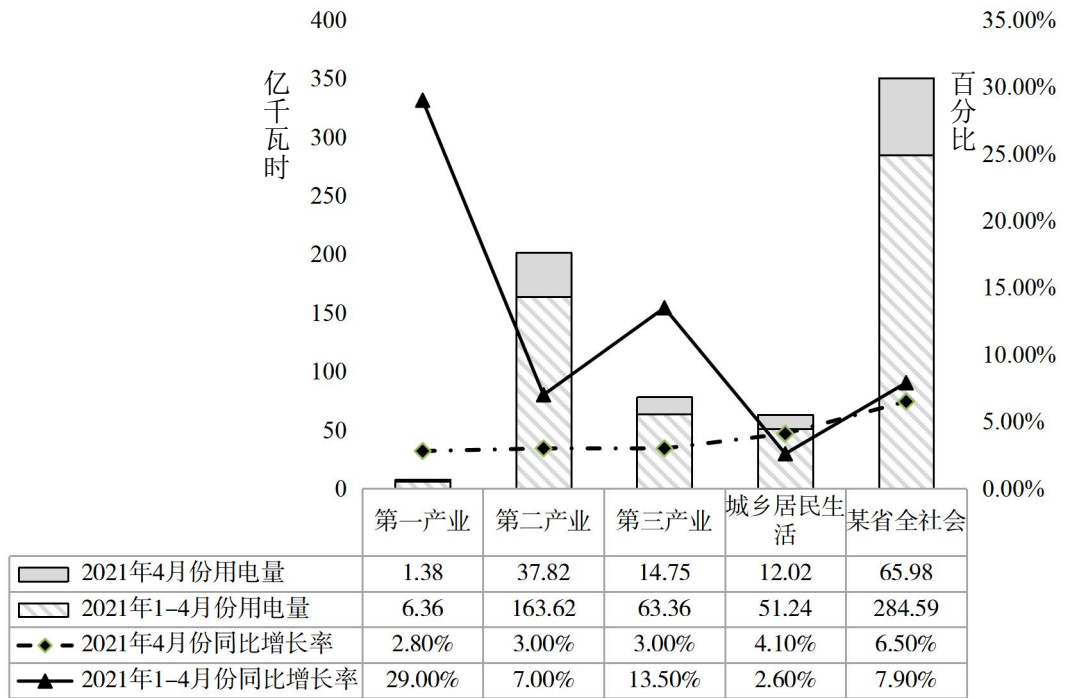


图 某省 2021 年 1-4 月用电量统计

26. 2021 年该省第一季度城乡居民生活月均用电量约为：
- A.10 亿千瓦时 B.11 亿千瓦时
- C.12 亿千瓦时 D.13 亿千瓦时
27. 与 2020 年同期相比，2021 年 1-4 月份第一产业用电量占该省全社会用电量的比重提高约：
- A.0.18% B.0.22% C.0.36% D.0.45%
28. 与 2019 年同期相比，2021 年 1-4 月该省第一产业用电量增长了约：
- A.46% B.52% C.58% D.61%
29. 2020 年 4 月，城乡居民生活用电量占同期全社会用电量的比重约为：
- A.17.5% B.18.6% C.19.6% D.19.8%

30. 从上述资料中可以推断出：
- A.2020 年 1-4 月份第三产业用电量为负增长
 - B.2021 年 1-4 月份第一、二、三产业及城乡居民生活用电量依次增加
 - C.2021 年 4 月份第一、二、三产业及城乡居民生活用电量依次下降
 - D.以上说法都不对
31. 下列关于我国国情的表述中正确的是：
- A.我国主要粮食作物品种中，产量一直居于首位的是小麦
 - B.我国是稀土资源储量大国，产量最多的地区是内蒙古巴彦淖尔
 - C.我国资源人均占有量较低，土地的后备资源少
 - D.我国地势西低东高，呈现阶梯状分布
32. 生活中我们既在消费衣服，也在享用天气预报、国防、公园等公共产品。私人商品和公共产品的主要区别是：
- A.前者一定由私人生产，后者一定由政府生产
 - B.前者是私人使用的，后者是企业提供的
 - C.前者具有竞争性和非排他性，后者则没有
 - D.前者具有竞争性和排他性，后者则没有
33. 玻璃工厂在甲村修建，经批准占用 200 亩耕地，则该企业应负责开垦_____质量相当的耕地。
- A.100 亩 B.150 亩 C.180 亩 D.200 亩
34. 2022 年中央一号文件指出，做好国家乡村振兴重点帮扶县_____选派，实行产业技术顾问制度，有计划开展教育、医疗干部人才_____。
- A.科技特派员 组团式帮扶
 - B.科技特派团 组团式帮扶
 - C.科技特派员 定点式帮扶
 - D.科技特派团 定点式帮扶
35. 2022 年中央一号文件指出，支持大中城市疏解产业向_____延伸，引导产业有序梯度转移。
- A.县域
 - B.中心镇

- C.重点村
D.村域
36. 2022年7月12日至15日,习近平在新疆考察调研时强调,随着我国扩大对外开放、西部大开发、共建“一带一路”等深入推进,新疆从相对封闭的内陆变成对外开放的前沿,要推进_____建设,把新疆的区域性开放战略纳入国家向西开放的总体布局中,创新开放型经济体制,加快建设对外开放大通道,更好利用_____两个市场、两种资源,积极服务和融入新发展格局。
- A.社会主义新农村 国际国内
B.社会主义新农村 中央地方
C.丝绸之路经济带核心区 国际国内
D.丝绸之路经济带核心区 中央地方
37. 2022年7月15日,第63届国际数学奥林匹克竞赛落下帷幕。经过激烈角逐,中国队_____名选手均以满分成绩勇夺金牌,成为本届比赛中唯一获得全金的代表队,并以领先第二名_____分的绝对优势,获团体总分第一名,赢得中国参赛史上最佳成绩,中国队也成为该项赛事有史以来第二支以全部满分摘金的参赛队伍。
- A.5 44
B.5 54
C.6 44
D.6 54
38. 2022年7月13日0时30分,天链二号03星搭乘长征三号乙运载火箭在_____卫星发射中心成功发射。入轨定点后,该星将与之前发射的天链二号01、02星三星组网,组成我国_____中继卫星系统。
- A.酒泉 第一代
B.酒泉 第二代
C.西昌 第一代
D.西昌 第二代
39. 习近平同志的系列重要讲话贯穿了马克思主义哲学的思想精髓。以下讲话内容与其所含哲学意蕴,不相对应的是:
- A.领导要做群众的先生,先得做群众的学生——实事求是
B.想问题、作决策、办事情,不能非此即彼——辩证思维
C.“空谈误国,实干兴邦”——实践是检验真理的唯一标准

- D.既注重总体谋划又注重牵住“牛鼻子”——两点论和重点论的统一
40. 在长征途中，毛泽东非常重视情报工作，及时掌握敌方的部署与动向，根据敌我双方力量的变化，寻找敌方薄弱环节，灵活调动军队，四渡赤水，终于摆脱了敌兵的围追堵截。毛泽东用兵如神的奥秘在于：
- ①重视调查研究，依据不断变化的情况决定军事部署
 - ②把对战争规律的真理认识作为军事行动的出发点
 - ③善于在瞬息万变的战场形势中掌握和利用战争规律
 - ④认识到红军将士的主观能动性在战争中起决定性作用
- A.①② B.①③ C.②④ D.③④
41. 某知名品牌矿泉水瓶身上印有“建议零售价：2元”，这与市场上实际零售价存在较大差距，这是因为“建议零售价”：
- A.高于商品价值，违背了价值规律
 - B.不能及时反映市场供求关系的变化
 - C.不能反映各企业间劳动生产率的差别，属于不正当竞争
 - D.是人为确定的，而商品的价格是由供求关系决定的
42. 这是人类历史上的医疗奇迹：曾经，中国医疗资源极度匮乏，各地疫病肆虐，人民缺医少药，医疗保障“零”基础；现在，中国基本医保参保人数 13.6 亿人，参保率稳定在 95% 以上，全国基本医疗保障制度全覆盖。一张世界上最大医疗保障网惠及全民，中国新型医疗保障制度体系的建设成就令世界瞩目。这说明：
- A.医疗体制改革已经完成
 - B.社会的基本矛盾得到了解决
 - C.我国药物研发技术水平已经领先世界
 - D.以人民为中心的发展思想得到了践行
43. 党的十九届六中全会强调全党必须永远保持同人民群众的血肉联系，践行以人民为中心的发展思想，不断实现好、维护好、发展好最广大人民根本利益，团结带领全国各族人民不断为美好生活而奋斗。下列做法体现了这一思想的是：

- A.某省大力推进事业单位改革，精简事业单位机构和人员
 - B.某市将机关事业单位停车场对市民开放，实行“错峰”停车
 - C.某县将荒山铺上绿色塑料网，打出了“悠悠青山情、造林为人民”的标语
 - D.为方便群众办事，某县在财政收比较困难的情况下筹措资金修建新办公楼
44. 价格变动会引起需求量变动。在日常生活中，价格变动对需求量影响较小的一组商品是：
- A.轿车、化妆品、艺术品
 - B.金银首饰、保健品、奢侈品
 - C.旅游产品、香水、鲜花
 - D.大米、面粉、食盐
45. 下列不属于法的特征的是：
- A.法是由国家制定或认可的，维护全体公民的利益
 - B.法是由国家强制力保证实施的，具有强制性
 - C.法是一种特殊的社会规范
 - D.法的主要内容在于规定人们在法律上的权利和义务
46. 某中学生在上网查询资料时，发现有人正在利用国际互联网泄露国家重要的经济情报，他及时将此事报告了有关部门。这名中学生履行了：
- A.维护国家安全的义务
 - B.维护国家统一的义务
 - C.维护民族团结的义务
 - D.维护国家荣誉的义务
47. 根据我国宪法规定，下列权力不是只能由全国人民代表大会行使的是：
- A.修改宪法
 - B.监督宪法的实施
 - C.选举主席
 - D.选举国家监察委员会主任
48. 2020年5月28日，十三届全国人大三次会议表决通过了《中华人民共和国民法典》。关于这部民法典，下列说法正确的是：
- A.自2021年7月1日起施行
 - B.人格权、侵权责任皆单独成编
 - C.确立了公证遗嘱效力优先于其他遗嘱效力的原则
 - D.自施行起，民法总则、物权法、合同法、公司法同时废止

49. 小凡年满 10 周岁，精神健康，智力正常。他在学校门口的文具店看中一块橡皮，定价 2 元，于是用自己的零用钱将其买下。下列关于小凡购买橡皮行为效力的表述中，正确的是：
- A.小凡是无民事行为能力人，其购买橡皮的行为无效
- B.小凡是无民事行为能力人，其购买橡皮的行为须经法定代理人追认方为有效
- C.小凡是限制民事行为能力人，其购买橡皮的行为有效
- D.小凡是限制民事行为能力人，其购买橡皮的行为须经法定代理人追认方为有效
50. 下列公文发文字号中格式完全正确的是：
- A.{2021}国办发 3 号
- B.湘司发（2021）9 号
- C.（21）×市财字第 11 号
- D.教职成厅函〔2021〕9 号

二、多选题

51. “沉舟侧畔千帆过，病树前头万木春。”新生事物必然取代旧事物，从根本上说，是因为：
- A.新生事物产生于旧事物之后，是新出现的事物
- B.新生事物具有新的结构和功能，能适应已经变化了的环境和条件
- C.新生事物是对旧事物的扬弃，并添加了旧事物所不能容纳的新内容
- D.在社会历史领域内，新生事物符合广大人民群众的根本利益和要求
52. 2021 年 3 月 1 日《中小学教育惩戒规则（试行）》开始施行，规则全文对“教育惩戒”给出了明确的惩戒界限，告诉了老师哪些可以做而哪些不能做，将教育惩戒与惩罚区分开来，这反映的哲学道理有：
- A.实践是检验真理的唯一标准
- B.质变能够随着量变的积累而逐渐完成
- C.一旦超过界限，事情可能就会存在另一种性质
- D.做事情要把握好度

53. 城乡社区是社会治理的基本单元。城乡社区治理事关党和国家大政方针贯彻落实，事关居民群众切身利益，事关城乡基层和谐稳定。城乡社区是人民群众安居乐业的家园，是党和国家许多政策措施落实的“最后一公里”，对于巩固党的执政基础具有重大意义。加强和完善城乡社区治理的措施是：
- A.充分发挥基层党组织领导核心作用
 - B.有效发挥基层政府主导作用
 - C.注重发挥基层群众性自治组织基础作用
 - D.统筹发挥社会力量协同作用
54. 新时代党的建设总要求提出，坚持和加强党的全面领导，坚持党要管党、全面从严治党，以_____为主线。
- A.加强党的长期执政能力建设
 - B.党的政治建设
 - C.先进性和纯洁性建设
 - D.坚定理想信念
55. 积极的财政政策是通过财政投融资来实现产业政策的国家经济政策与宏观调控手段，下列属于积极的财政政策的有：
- A.落实减税降费
 - B.增加赤字规模
 - C.扩大政府投资
 - D.减少货币流通量
56. 关于日常生活中的常识，以下说法错误的是：
- A.固态二氧化碳俗称干冰，可用于人工降雨
 - B.一氧化碳是煤气中毒的元凶，在煤灶上放水可以防止煤气中毒
 - C.石油被称为“工业的血液”
 - D.氮气是惰性气体，可用于食品保存
57. 陈某杀死了作恶多端的黄某，认为自己这样是正义之举，其行为：
- A.属于正当防卫
 - B.构成故意杀人罪
 - C.是对法律的错误认识
 - D.不构成犯罪
58. 在公文活动中，我们常常需要根据领导批示和工作需要将公文送传阅对象阅知或批示。公文传阅时不得：

- A.漏传 B.误传 C.延误 D.准确
59. 2022 年中央一号文件指出，精准确定监测对象，将_____的农户纳入监测范围，简化工作流程，缩短认定时间。强化监测帮扶责任落实，确保工作不留空档、政策不留空白。
- A.有返贫致贫风险 B.突发严重困难
C.遭受自然灾害 D.患有严重疾病
60. 《“十四五”推进农业农村现代化规划》强调，加快形成工农互促、城乡互补、协调发展、共同繁荣的新型工农城乡关系，促进：
- A.农业高质高效 B.乡村宜居宜业
C.农民富裕富足 D.农民共同富裕

三、判断题（对下列命题作出判断。正确的在答题卡上涂 A，错误的涂 B。）

61. 习近平新时代中国特色社会主义思想的理论精髓是“解放思想、实事求是、与时俱进、求真务实”。
62. 社会救助是社会保障体系的核心。
63. 供给量小于需求量时价格下跌，供给量大于需求量时价格上涨。
64. 内存存储器的基本存储单位是字节。
65. 甲骨文是我国发现最早的文献记录，出土于河南安阳殷墟遗址。
66. 指纹识别，人脸识别，视网膜识别、虹膜识别及掌纹识别均运用了人工智能。
67. 那达慕节是藏族的传统节日之一。
68. 根据我国宪法规定，最高人民法院院长的罢免权属于国家主席。
69. 两个或两个以上行政机关以共同名义作出同一具体行政行为的，共同作出具体行政行为的行政主体是共同被申请人。
70. 2022 年中央一号文件指出，引导新发展林果业上山上坡，鼓励利用“三荒”资源，不与粮争地。

四、简答题

71. 什么是法定继承？法定继承人的范围和顺序如何？

五、论述题

72. 目前生态文明建设正处于压力叠加、负重前行的关键期，已进入提供更多优质生态产品以满足人民日益增长的优美生态环境需要的攻坚期。请简述新时代如何加强生态文明建设。

六、公文写作题

假定你是 A 市 B 区 C 街道 D 社区的相关工作人员，为深入推进“不忘初心，牢记使命”主题教育，拟利用社区活动中心周边空白墙面，建设“不忘初心，牢记使命”主题教育文化墙。现已自筹经费 10 万元，尚有经费缺口 5 万元，需向上级单位申请经费补助，请拟写一份公文。

要求：

- 1.要素齐备，格式规范（无需版头）；
- 2.事项清晰，理由充分；
- 3.逻辑严谨，语言简练；
- 4.简要说明经费用途去向。

七、文章写作题

访谈节目《十三邀》采访王石，王石说在穿越南北极的时候，他决定抛弃团队里一个体弱的男性。队里唯一的女性站出来，接纳了那位男性，单独组队，完成了穿越。

十年后，王石去剑桥，参加划艇队，因为弱而感到自卑。没想到在剑桥，被抛弃的不是弱势的一方，而是一味逞强的一方。他们的理论是，最强的那方如果不知道收着劲儿，就会带偏整个团队，但最弱的那方，大家只要兼容他，他一定会努力。

这件事对王石触动很大，他开始明白公平、正义不是通过对强者的崇拜，而是通过对弱者的兼容实现的。

但当一个人的世界很小，因为生存环境过于恶劣，成王败寇，就来不及考虑公平正义。小世界带来人格的偏执，人格的偏执又造成人性的扭曲。

变坏，是从世界变小开始的，所以我们要经常问问自己，你的世界，越活越大，还是越活越小？

决隘的视野终将豢养你内心的黑暗，这股黑暗的力量，改变不了别人，只会吞噬你自己。

阅读上述材料，自选角度，自拟题目，写一篇论述性文章。

要求：

- (1) 自选角度，立意明确，有思想性；
- (2) 联系实际，不拘泥于给定资料；
- (3) 思路清晰，语言流畅；字数不少于 800 字。