

浙江省考笔试真题及答案

(来源考生回忆版)

博思贤整理提供仅供参考

1.2022 年 10 月 22 日,中国共产党第二十次全国代表大会

- A. 1 项
- B. 2 项
- C. 3 项
- D. 4 项

【博思贤答案】 D

2.习近平总书记在党的二十大报告中指出,十年来

- A. 迎来中国共产党成立一百周年
- B. 中国特色社会主义进入新时代
- C. 谱写马克思主义
- D. 完成脱贫攻坚、全面建成小康

【博思贤答案】 C

3.根据《中华人民共和国公务员法》

- A. 公务员就职时应当依照法律
- B. 被依法列为失信联合惩戒对象的人员
- C. 对公务员涉嫌职务违法
- D. 国家实行公务员职务与职级并行制度

【博思贤答案】 C

4.根据《中华人民共和国个人信息保护法》

- A. 个人发现其个人信息不准确或者不完整的
- B. 处理个人信息应当具有明确、合理的目的
- C. 个人信息是以电子或者其他方式记录
- D. 基于个人同意处理个人信息

【博思贤答案】 D

5.根据《中华人民共和国社会保险法》

- A. 治疗工伤期间的工资福利
- B. 生育保险费用由用人单位
- C. 城镇居民基本医疗保险
- D. 失业人员领取失业保险金

【博思贤答案】 B

6.根据《中华人民共和国行政许可法》

- A. 行政机关实施行政许可

- B. 行政许可申请可以通过电子数据
- C. 被许可人出借行政许可证件的
- D. 当申请人的申请事项不属于本行政机关职权范围的

【博思贤答案】 A

7.下列 4 幅图是红军长征宣传图

- A. ①②④③
- B. ④③①②
- C. ②④③①
- D. ④①③②

【博思贤答案】 B

8.下列最能体现古人可持续发展思想

- A. 天何言哉?四时行焉,百物生焉,天何言哉?
- B. 虾蟆得其志,快乐无以加。地既蕃其生,使之族类多
- C. 不违农时,谷不可胜食也;数罟不入洿池,鱼鳖不可胜食也
- D. 毋坏屋,毋填井,毋伐树木,毋动六畜。有不如令者,死无赦

【博思贤答案】 C

9.下列关于中国古典园林的说法

- A. 中国古典园林在明末开始出现
- B. 凿池引水在古典园林中较为常见
- C. 榭在古典园林建筑中多为临水建筑
- D. 漏景的构景手法主要是通过透漏空隙来呈现景物

【博思贤答案】 A

10.下列与我国税务有关的说法

- A. 个人所得税一般使用全额累进税率计算
- B. 一般纳税人的增值税应纳税额=销项税额-进项税额
- C. 按消费地征税,不会影响进口商品和本国商品的比价,因而对自由贸易不产生扭曲效应
- D. 出口退税是指在国际贸易业务中,对我国报关出口的货物退还在国内各生产环节和流转环节按税法规定缴纳的增值税和消费税

【博思贤答案】 A

11.命名与中国航天器或工程的对应关系不正确的是

- A. 鹊桥——中继通信卫星
- B. 鸿雁——全球定位卫星系统
- C. 萤火一号——火星探测器
- D. 悟空——暗物质粒子探测卫星

【博思贤答案】 B

12.与古代典籍有关的说法正确的是

- A. 传统的“四书五经”中包括《尔雅》
- B. “二十四史”中包括《史记》和《清史稿》

- C. 《战国策》和《资治通鉴》都是编年体史书
- D. 古人所说的“笺”和“疏”都有注释的意思

【博思贤答案】 D

13.关于中国古代文化的说法不正确的是：

- A. 红山文化是我国北方新石器时代文化之一
- B. 良渚文化的陶器以泥质红陶和夹砂黑陶为主
- C. 仰韶文化早期和中期处于母系氏族社会的繁荣阶段
- D. 龙山文化晚期进入军事民主制时期，出现了阶级分化

【博思贤答案】 B

14.诗句与端午节有关的是：

- A. 竞渡深悲千载冤，忠魂一去詎能还
- B. 但将酩酊酬佳节，不用登临恨落晖
- C. 千门万户曈曈日，总把新桃换旧符
- D. 烟霄微月澹长空，银汉秋期万古同

【博思贤答案】 A

15.邮票图案少数民族的对应关系，不正确的是：

- A. 朝鲜族
- B. 傣族
- C. 回族
- D. 苗族

【博思贤答案】 D

16.与光有关的说法,不正确的是：

- A. 光波可以像绳索样，沿着一定的方向振动
- B. 可见光中波长最长的红光波长大于红外线的波长
- C. 白光是一种自然光，由红橙黄绿蓝靛紫即七色光组成
- D. 利用荧光、激光等发光原理的现代节能灯不能被称为白炽灯

【博思贤答案】 B

17.与农业有关的说法不正确的是：

- A. 石灰、硫磺是常见的无机农药的有效成分
- B. 矿物油农药的作用主要是物理性阻塞害虫气门，影响其呼吸
- C. 无公害农业允许使用少量化学农药，强调以预防为主，以生物防治为主
- D. 现代农业绿色防控中杀虫灯是利用了害虫成虫对黄色或蓝色敏感，具有强烈趋性的特征

【博思贤答案】 D

18.实验与其贡献的对应关系,不正确的是：

- A. 马德堡半球实验证明了——大气压的存在
- B. 孟德尔的豌豆杂交实验——发现了遗传规律
- C. 傅科钟摆实验——验证了万有引力定律的正确性
- D. 牛顿的棱镜分解太阳光实验——发现太阳光是一种复色光

【博思贤答案】 C

19.关于大气现象的说法,不正确的是:

- A. 寒潮、雷电等天气现象发生在平流层
- B. 雨后大气一般灰尘较小, 不易形成霾
- C. 在相同高度上, 气旋中心的气压比四周低
- D. 霾因其散射波长较长的光较多, 故常呈现黄色或橙灰色

【博思贤答案】 A

20.关于生活常识的说法,不正确的是:

- A. 涂抹润肤乳增加身体湿度可减少静电产生
- B. 用过的砧板上常有肉眼看不到的黄曲霉菌
- C. 正在发育期的青少年适当补锌可减少腿部抽筋
- D. 手剥完桔子后摸膨胀气球, 很有可能导致气球爆炸

【博思贤答案】 C

21.它会随着一座城市的发展需要而产生相应的变化

- A. 千篇一律 兼收并蓄
- B. 墨守陈规 求同存异
- C. 因循守旧 革故鼎新
- D. 一成不变 与时俱进

【博思贤答案】 D

22.《走出非洲》是二十世纪最伟大的英语文学作品之一

- A. 切换 匠心独运
- B. 穿插 深入浅出
- C. 变幻 举重若轻
- D. 出入 不动声色

【博思贤答案】 A

23.有的地方搞森林城市创建不计成本

- A. 牛搬硬套 无视
- B. 标新立异 罔顾
- C. 好大喜功 弱化
- D. 贪大求全 漠视

【博思贤答案】 B

24.有些教育者讲授思政课之所以效果不佳

- A. 舍本逐末 接受
- B. 走马观花 理解
- C. 浅尝辄止 信服
- D. 缘木求鱼 认可

【博思贤答案】 C

25.骈文的忒但是追求形式美

- A. 导向 苍白
- B. 手法 单一
- C. 潮流 呆板
- D. 风尚 空洞

【博思贤答案】 D

26. 逐渐由“炫目”向为视觉表现和角色叙事服务转变

- A. 体验 强化
- B. 呈现 提升
- C. 冲击 拓展
- D. 享受 升华

【博思贤答案】 B

27. 探索浩瀚宇宙

- A. 矢志不渝 寄寓
- B. 志在必得 铭刻
- C. 亘古不变 映射
- D. 孜孜不倦 彰显

【博思贤答案】 A

28. 平台坐拥先进的后台系统、人力技术优势

- A. 责无旁贷 洞若观火
- B. 当仁不让 义不容辞
- C. 烂熟于心 如数家珍
- D. 难辞其咎 了如指掌

【博思贤答案】 A

29. 治理直播行业乱象不是为了束缚主播发展

- A. 挖掘 变革 雪中送炭
- B. 丰富 复苏 披荆斩棘
- C. 深耕 蝶变 保驾护航
- D. 聚焦 转机 添砖加瓦

【博思贤答案】 C

30. 中华文化是一座浩瀚的思想库

- A. 循规蹈矩 去粗取精
- B. 如法炮制 弃若敝展
- C. 固步自封 漠然置之
- D. 原封不动 束之高阁

【博思贤答案】 D

31. 并非所有的阅读都是一场对抗

- A. 唇枪舌剑 字字珠玑 沉醉
- B. 雄辩高谈 丝丝入扣 迷醉

- C. 舌战群儒 笔底生花 沉浸
- D. 剑拔弩张巧舌如簧陶醉

【博思贤答案】 A

32. 童书出版有必要设立严格门槛

- A. ③②①④⑥⑤
- B. ④⑥⑤②③①
- C. ⑤④③⑥①②
- D. ⑥②①④⑤③

【博思贤答案】 B

33. 省内城市务工成为近年来人口流动的趋势

- A. ①②③④⑥⑤
- B. ②⑥⑤③①④
- C. ④③⑥①②⑤
- D. ⑥②⑤③①④

【博思贤答案】 D

34. 禁止教师有偿兼职补课是重要的“师德红线”

- A. ②③④⑤①⑥
- B. ②③⑤④⑥①
- C. ④②③⑤①⑥
- D. ④②⑤③⑥①

【博思贤答案】 A

35. 在社会文化的变革中

- A. “常识”容易让人墨守成规
- B. 要创新就必须突破“常识”
- C. 突破和创新需要大胆尝试
- D. 要警惕“常识”的负面影响

【博思贤答案】 B

36. 军事指挥员在未来战场上的谋优制胜能力取决于其军事思维发展水平

- A. 信息化战争对参战人员提出的新要求
- B. 提升指挥员军事思维发展水平的途径
- C. 培养方式对提升军事指挥员素质的影响
- D. 研究战争制胜机理对军事指挥员的意义

【博思贤答案】 B

37. 光的照射可对人体组织修复产生积极影响

- A. 能够促进伤口愈合
- B. 可自动调节发射光的数量
- C. 可用于治疗阿尔茨海默症
- D. 利用了光可促进人体组织修复的原理

【博思贤答案】 B

38.算法应用使广告的个性化、强互动和精准性特征变得非常突出

- A. 广告效果转化呈现跨界的特性
- B. 传统的广告效果测量方法面临挑战
- C. 广告从投放到获得收益存在诸多环节
- D. 算法应用在广告效果归因上具有局限性

【博思贤答案】 B

39.牡丹和玉兰都不会在正月里开花

- A. 《岁朝图》里牡丹和玉兰花的象征意义
- B. “唐花”这一专门术语的由来以及含义
- C. 我国古代已经出现了实用的温室技术
- D. 温室技术源于皇帝冬天吃蔬菜的需求

【博思贤答案】 C

40.科学家观察了超过 2500 次拥抱后发现

- A. 拥抱不能“走过场”
- B. 拥抱向左倾才是真情
- C. 情感疏离“有迹可循”
- D. 大脑控制下的身体表达

【博思贤答案】 B

41.舰船类部队装备型号多

- A. 提高培训质量
- B. 缩短培养周期
- C. 创新培养模式
- D. 加大培训力度

【博思贤答案】 C

42.斑马鱼和蝶等少数脊椎动物具有肢体和内脏器官再生的能力

- A. 肿瘤细胞会导致相关基因突变
- B. 成年人的心肌细胞不能分裂增殖
- C. 细胞分裂增殖旺盛的器官更易得肿瘤
- D. 成年斑马鱼的心室被切除后可完全再生

【博思贤答案】 C

43.在我国的传统花卉中,紫薇花算得上是名花之一。

- A. 紫薇花这个美丽名称的由来
- B. 紫薇花为何被称为“花之圣”
- C. 历代诗人歌咏紫薇花的名篇
- D. 古代画家为何很少画紫薇花

【博思贤答案】 D

44.在电商业、快递业高速发展的背景下

- A. 当前无人机配送难以普及的原因
- B. 企业重视发展无人机物流的动机
- C. 安全问题对无人机物流的重要意义
- D. 无人机配送在现代物流领域的地位

【博思贤答案】 A

45. 新中国成立以来,很多画家借用西方的一些画法创作山水画

- A. 中西融合是二十世纪中国画面对的世纪课题
- B. 中国画具有独特的文化特质和内在发展逻辑
- C. 中国画家借鉴外来艺术时需有良好的传统功底
- D. 借鉴西洋画艺术手法取得成功的中国画家很少

【博思贤答案】 A

46. 研究人员介绍,来源于化脓链球菌的 Cas9

- A. PAM 识别序列的特点和作用
- B. Cas9 基因编辑方法的特殊性
- C. Cas9 对水稻基因组编辑的重要性
- D. PAM 识别序列对 Cas9 基因组编辑时的影响

【博思贤答案】 C

47. 市场交易是市场机制有效配置资源的主要形式

- A. 实施贸易保护主义的消极影响
- B. 贸易保护主义得以实现的基本手段
- C. 自由贸易与贸易保护主义的主要区别
- D. 国际市场中资源有效配置的最佳方式

【博思贤答案】 A

48. 人体需要的碳水化合物主要靠谷类提供

- A. 碳水化合物是人体所必需的
- B. 不吃谷类食物可能会得糖尿病
- C. 改善饮食结构可有效治疗糖尿病
- D. 糖尿病的病因是胰岛素分泌紊乱

【博思贤答案】 B

49. 阿宝十岁,邻居蓓蒂六岁

- A. 尼古拉斯东正教堂坐落在西面后方一角
- B. 尼古拉斯东正教堂在太阳底下比较养眼
- C. 尼古拉斯东正教堂三十年代由俄侨建立
- D. 尼古拉斯东正教堂是为纪念尼古拉二世

【博思贤答案】 C

50. 用不了几十年,人工智能就会超越多种人类自认独有的能力

- A. 人类应该及时应对人工智能带来的挑战
- B. 人类的创造力不会被人工智能完全取代

- C. 人类的知识是与人工智能相抗衡的基础
- D. 人类与人工智能可在不同领域实现互补

【博思贤答案】 C

51.7.....41 ()

- A. 86
- B. 123
- C. 161
- D. 192

【博思贤答案】 C

52.-2.....4 ()

- A. 8
- B. 9
- C. 12
- D. 17

【博思贤答案】 B

53.163.....79 ()

- A. -256
- B. -115
- C. 181
- D. 223

【博思贤答案】 A

54.2.2.2... ()

- A. 3/2
- B. 7/3
- C. 11/6
- D. 12/7

【博思贤答案】 D

55.-2.....37 ()

- A. 196
- B. 216
- C. 278
- D. 342

【博思贤答案】 D

56.某部门举行...

- A. 41
- B. 42
- C. 61
- D. 62



【博思贤答案】 A

57.这叠文件最多可能有多少份?

- A. 50
- B. 60
- C. 70
- D. 80

【博思贤答案】 D

58.本月的销量为多少件?

- A. 1.3m
- B. 1.25m
- C. 1.2m
- D. 1.15m

【博思贤答案】 C

59.一共采集了多少份水样?

- A. 38
- B. 39
- C. 76
- D. 78

【博思贤答案】 C

60.间隔一个车位的概率为:

- A. 1/5
- B. 2/7
- C. 6/35
- D. 9/35

【博思贤答案】 B

61.有多少种不同的安排方式?

- A. 5
- B. 6
- C. 7
- D. 8

【博思贤答案】 D

62.面积是多少平方米?

- A. $12(2+\sqrt{3})$
- B. $12(1+2\sqrt{3})$
- C. $12\sqrt{13}$
- D. $6(3+\sqrt{13})$

【博思贤答案】 A

63.均及格的学生有多少人?



- A. 31
- B. 37
- C. 41
- D. 44

【博思贤答案】 D

64.收割速度在以下哪个范围内?

- A. 小于 6 亩/小时
- B. 6~7 亩/小时
- C. 7~8 亩/小时
- D. 大于 8 亩/小时

【博思贤答案】 C

65.员工最大可能为多少岁?

- A. 33
- B. 34
- C. 35
- D. 36

【博思贤答案】 C

66.面积为多少平方厘米?

- A. 0.5π
- B. 0.75π
- C. π
- D. 1.5π

【博思贤答案】 B

67.其与乙车之间的距离:

- A. 小于 80 千米
- B. 80~90 千米
- C. 90~100 千米
- D. 大于 100 千米

【博思贤答案】 B

68.是第二次投资前的百分之几?

- A. 24%
- B. 28%
- C. 32%
- D. 36%

【博思贤答案】 A

69.有多少个不能用这些砝码称量出来?

- A. 0
- B. 1

博思贤公考

bosixian.com

since2016

C. 2

D. 3

【博思贤答案】 D

70. 多少种重新编队的方法?

A. 155

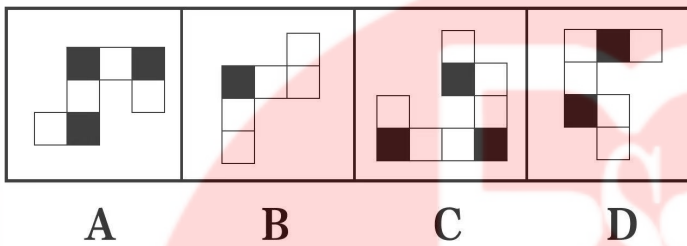
B. 227

C. 232

D. 239

【博思贤答案】 C

71. 使之呈现一定的规律性:



A. 见图片

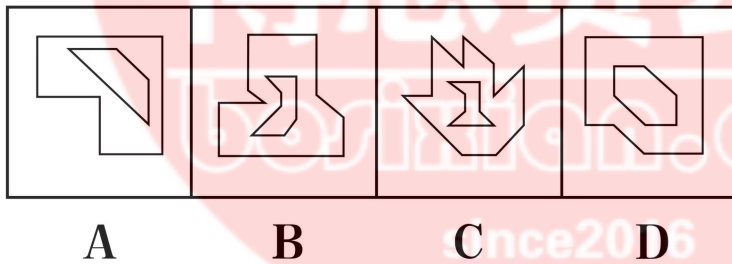
B. 见图片

C. 见图片

D. 见图片

【博思贤答案】 A

72. 使之呈现一定的规律性:



A. 见图片

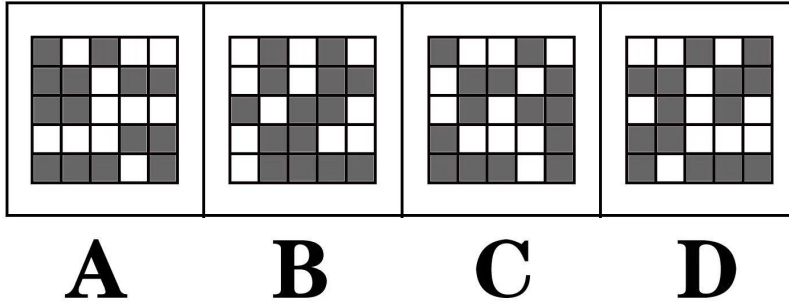
B. 见图片

C. 见图片

D. 见图片

【博思贤答案】 B

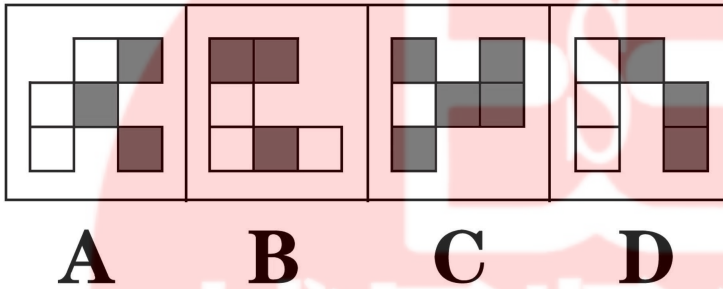
73. 使之呈现一定的规律性:



- A. 见图片
- B. 见图片
- C. 见图片
- D. 见图片

【博思贤答案】 A

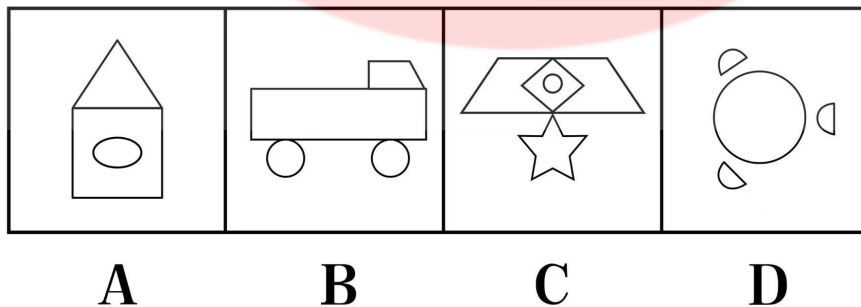
74.使之呈现一定的规律性:



- A. 见图片
- B. 见图片
- C. 见图片
- D. 见图片

【博思贤答案】 C

75.使之呈现一定的规律性:



- A. 见图片
- B. 见图片
- C. 见图片
- D. 见图片

【博思贤答案】 C

76.使之呈现一定的规律性:



- A. ①③⑤, ②④⑥
- B. ①③⑥, ②④⑤
- C. ①②③, ④⑤⑥
- D. ①④⑤, ②③⑥

【博思贤答案】 D

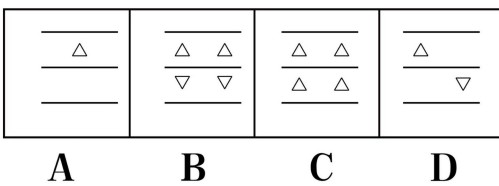
77.使之呈现一定的规律性:



- A. ①②⑤, ③④⑥
- B. ①③④, ②⑤⑥
- C. ①④⑤, ②③⑥
- D. ①⑤⑥, ②③④

【博思贤答案】 A

78.使之呈现一定的规律性:

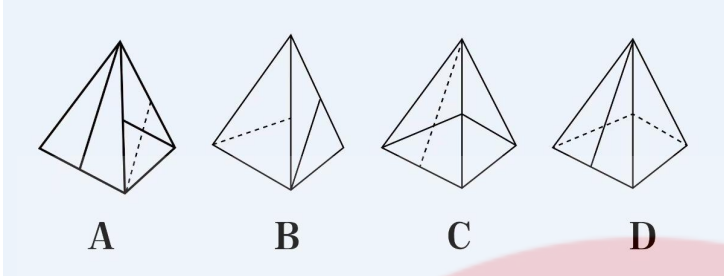


- A. 见图片

- B. 见图片
- C. 见图片
- D. 见图片

【博思贤答案】 B

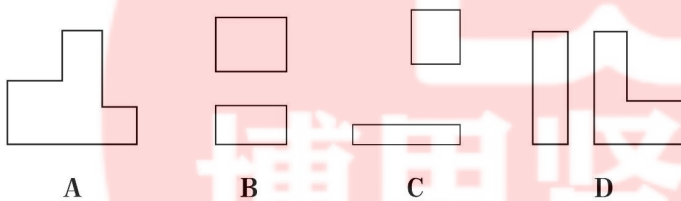
79. 左边给定的是纸盒外表面的展开图，右边哪一项能由它折叠而成？



- A. 见图片
- B. 见图片
- C. 见图片
- D. 见图片

【博思贤答案】 C

80. 左图为给定的多面体，将其从任一面剖开，哪项不可能是该多面体的截面？



- A. 见图片
- B. 见图片
- C. 见图片
- D. 见图片

【博思贤答案】 C

81. 根据上述定义，下列不属于发现不均衡套利的是：

- A. 孔子的门生子贡在曹国与鲁国之间通过贱买贵卖来获利
- B. 小王预见来年褐榄必然大获丰收，便买断了当地所有的榨油机，第二年高价出租获得巨额财富
- C. F 汽车公司针对当时汽车价格昂贵、普通居民消费不起的状况，推出了价廉物美的 T 型车，迅速进入普通家庭
- D. 20 世纪 80 年代，中国农村出现大量富余劳动力，而工业产品又极为缺乏。因此将富余的农村劳动力组织起来生产工业产品，可以获利

【博思贤答案】 C

82. 根据上述定义，下列属于公用品的是：

- A. 会议室
- B. 停车场
- C. 小区草坪

D. 有线电视的信号

【博思贤答案】 D

83. 根据上述定义，下列不属于机器学习的是：

- A. 某公司通过海量数据，不断升级门禁考勤等场景的人脸识别技术的版本，将准确率从 85% 提高至 99%
- B. 科研小组分析人类学习行为，决定让计算机先选用简单的数据再选用复杂的数据依次训练，提升了计算机算法的准确率
- C. 某高校统计学生核酸完成情况，利用算法识别核酸报告截图特定字符，自动生成结果，统计汇总时间由一小时缩短至两分钟
- D. 某 AI 算法在数据量较少的情况下，通过模拟双方对抗情况获取训练数据，不断提升技巧，最终在网络游戏中达到职业选手水平

【博思贤答案】 C

84. 根据上述定义，下列不属于弱关系社交的是：

- A. 参与中国象棋小程序自动匹配对手的游戏
- B. 为刚刚添加的微信好友的朋友圈动态点赞
- C. 在网络直播平台对小视频评论进行再评论
- D. 网络游戏过程中为提高游戏技术相互切磋

【博思贤答案】 B

85. 根据上述定义，下列不属于审美意象的是：

- A. 鲁迅作品《祝福》中的人物“祥林嫂”
- B. “采菊东篱下，悠然见南山”中的“南山”
- C. 漫画作品《三毛流浪记》中的人物“三毛”
- D. 日常语句“太阳出来了，该起床了”中的“太阳”

【博思贤答案】 D

86. 根据上述定义，下列涉及脱敏作用的是：

- A. 小华幼年时曾被狗追咬过，成年后看到狗仍然会感到非常恐惧
- B. 小孙爱玩含有暴力元素的游戏，生活中偶尔会模仿游戏中人物的行为
- C. 小王近期经常观看犯罪题材的影片，认为外面的世界很危险，走夜路时常会担心有意外发生
- D. 老师发现小明与女同学交谈时总会面红耳赤，就要求他每天主动和邻座女同学进行学习讨论

【博思贤答案】 D

87. 根据上述定义，下列没有体现群体归属感的是：

- A. 中秋节时小韦与几个要好的朋友一起分享月饼
- B. 王晓峰听到别人说他所在班级的坏话时很生气
- C. 退役士兵小王常向他人说自己曾是某英雄连的
- D. 小强外出时总自豪地在外衣上佩戴学校的校徽

【博思贤答案】 A

88. 根据上述定义，下列体现多重趋避式冲突的是：

- A. 张女士在二胎问题上犹挽不决，既想儿女双全，又怕无力抚养
- B. 周女生有一次难得的外省培训计划，可又放心不下家中年幼的孩子

- C. 王先生有一笔闲置资金，用于炒股担心风险大，用于储蓄又嫌收益低
- D. 李同学在收到研究生录取通知书的同时，又得到了心仪公司的入职邀请

【博思贤答案】 C

89.根据上述定义，下列属于功能文化区的是：

- A. 城市中的外籍人员聚居区
- B. 城市中的行为艺术聚集区
- C. 城市郊区的垃圾集中处理区
- D. 城市中的博物馆图书馆集中区

【博思贤答案】 D

90.根据上述定义，下列与表演型人格无关的是：

- A. 小邓喜欢穿奇装异服，希望吸引别人的注意
- B. 小王具有表演才能，讲话时手舞足蹈、表情丰富
- C. 小刘在人际交往受挫折时，表现出歇斯底里行为
- D. 小顾没有几个知心朋友，但他经常说自己有很多知心朋友

【博思贤答案】 B

91.声东:击西

- A. 围魏:救赵
- B. 张冠:李戴
- C. 安居:乐业
- D. 说东:道西

【博思贤答案】 A

92.心宽:体胖

- A. 唇亡:齿寒
- B. 鼻青:脸肿
- C. 手忙:脚乱
- D. 半斤:八两

【博思贤答案】 A

93.长白山：火山

- A. 皇陵:古建筑
- B. 巢湖:淡水湖
- C. 连衣裙:丝绸
- D. 火箭军:军人

【博思贤答案】 B

94.上市公司:跨国企业

- A. 大专院校:高等教育
- B. 商业银行:金融机构
- C. 快捷酒店:连锁酒店
- D. 进口产品:出口产品

【博思贤答案】 C

95. 蚕茧:丝绸:衣服
A. 矿山:矿石:螺丝
B. 树木:纸张:书本
C. 小麦:面条:馒头
D. 沙粒:珍珠:项链

【博思贤答案】 B

96. 白天:夜晚:夏夜
A. 红色:黑色:漆黑
B. 中国:外国:欧洲国家
C. 高山:大海:南海
D. 草原:森林:原始森林

【博思贤答案】 B

97. 红包:红旗渠:红光满面
A. 青草:青少年:青红皂白
B. 黑夜:黑心肠:黑灯瞎火
C. 白雪:白话文:白费心思
D. 黄豆:黄包车:黄粱一梦

【博思贤答案】 D

98. 售卖假货:举报维权:上门调查
A. 点菜下单:烹饪菜肴:传送菜品
B. 发表文章:勘误声明:印刷错误
C. 投递简历:考试通过:正式录取
D. 赛前动员:拟定阵容:布置战术

【博思贤答案】 A

99. 按揭 对于 () 相当于 () 对于 促销
A. 银行 商场
B. 抵押 打折
C. 贷款 降价
D. 购房 商品

【博思贤答案】 C

100. () 对于 音乐 相当于 真相 对于 ()
A. 演奏 揭露
B. 感动 激愤
C. 浪漫 报纸
D. 旋律 新闻

【博思贤答案】 D

101. 气球分别是红色圆形、蓝色五角星形、黄色心形、蓝色圆形、红色心形。根据以上信息，下列说法正确

的是：

- A. 小军的气球是红色心形的
- B. 小花的气球是黄色心形的
- C. 小飞的气球是红色圆形的
- D. 小明的气球是蓝色五角星形的

【博思贤答案】 D

102.关于小张、小李书法学习的情况，根据以上信息，可以得出以下哪项结论？

- A. 小张学习魏碑，小李学习汉隶
- B. 小张没有学习魏碑，小李学习汉隶
- C. 小张学习魏碑，小李没有学习汉隶
- D. 小张没有学习魏碑，小李没有学习汉隶

【博思贤答案】 C

103.某地区中小学教师中，要使上述推理成立，最适合填入画横线位置的是：

- A. 毕业于师范类院校的教师少于毕业于非师范类院校的教师
- B. 毕业于师范类院校的教师多于毕业于非师范类院校的教师
- C. 毕业于师范类院校的女教师比毕业于非师范类院校的男教师多
- D. 毕业于非师范类院校的女教师比毕业于非师范类院校的男教师多

【博思贤答案】 A

104.一项研究通过比较某市在参与创建全国卫生城市前后的环境空气质量发现，以下哪项如果为真，最能支持上述结论？

- A. 参与全国卫生城市创建能够获得更多的政府专项财政补助
- B. 众多城市考察团常常来该市学习创建全国卫生城市的经验
- C. 参与全国卫生城市创建之前，该市环境空气质量长期处于较差的状况
- D. 周边未参与全国卫生城市创建的城市在同时期环境空气质量有所下降

【博思贤答案】 D

105.这些摩天大楼虽然看起来“挺拔壮观”，但背后的隐患不容忽视。因此，“限高”势在必行。以下哪项如果为真，最能支持上述观点？

- A. 超高层建筑工程造价和运维成本更高，建造施工难度更大
- B. 中国 150 米、200 米、300 米以上建筑的数量均保持全球第一
- C. 超高层建筑安全风险更大，逃生疏散时间长，消防设施、抗震技术复杂，管理运维要求更高
- D. 城市建筑风貌是城市外在形象和内在精神的有机统一，限高有利于打造更多符合城市风貌的建筑

【博思贤答案】 C

106.在戏剧史上，以下哪项如果为真，最能削弱该学者的推断？

- A. 借助现代拍摄技术和传播手段，国家大剧院的演出可以实时传播到世界各地
- B. 中国传统戏曲“一桌二椅”的高度象征性和程式化表演方式，更有独特的艺术魅力
- C. 剧场科技、智能舞台等现代科技手段的广泛运用，没有实质性改变戏剧的艺术面貌
- D. 一些演员依赖现代科技手段替代有可能损伤身体的传统危险表演动作，降低了艺术魅力

【博思贤答案】 B

107. 研究人员开发了一种可以从指尖上的汗水中获取能量的新设备。以下哪项如果为真，最能支持上述论述？

- A. 新设备产生的电能可被储存在小电容器中，并在需要时释放到其他设备
- B. 此前基于汗水收集能量的设备需要佩戴者大量运动出足够的汗来激活发电
- C. 手指是身体 24 小时的“汗水工厂”，产生的汗量是其他部位的 100 到 1000 倍
- D. 一名受试者在 10 小时睡眠中收集了近 400 毫焦耳的能量，这足以为一块电子表提供 24 小时电力

【博思贤答案】 D

108. 某考古小组对发生于两千多年前维苏威火山爆发，以下哪项如果为真，最能解释这一发现？

- A. 相比于动物产品、豆类和坚果,海鲜中的蛋白质含量更高
- B. 当时罗马男性更多从事渔业和海洋活动，摄入食物以海鲜为主
- C. 两千多年前的罗马人饮食习惯与现在的饮食习惯没有很大差异
- D. 男性对海鲜中蛋白质的吸收能力比其他动物、豆类、坚果更高

【博思贤答案】 B

109. 据此认为早已适应极地寒冷的气候是恐龙崛起的主要原因。下列哪项最可能是研究人员得出结论的条件？

- A. 晚三叠世至早侏罗世早期恐龙生活于极地地区
- B. 大灭绝事件后恐龙体积迅速增加，地理分布范围迅速扩张
- C. 即使两极无冰川的温室地球时期,极地也存在季节性的结冰
- D. 在大灭绝中幸存下来的大多是分布于中、高纬度地区的恐龙

【博思贤答案】 C

110. 因此，工作记忆在多任务处理中扮演着重要的角色。以下哪项如果为真，最能支持上述结论？

- A. 噪音等外界干扰会降低人们处理多任务的能力
- B. 老年人或出现认知障碍的人的工作记忆会有所衰退
- C. 工作记忆并非一成不变,可以通过练习和训练得以加强
- D. 工作记忆强的人能轻松地在不同内容的网页间切换并成功找到所要的结果

【博思贤答案】 D

		2018年	2019年	2020年
总计		89257	86624	98514
按行业类别分	新闻信息服务	8099	6800	9382
	内容创作生产	18239	18585	23275
	创意设计服务	11069	12276	15645
	文化传播渠道	10193	11005	10428
	文化投资运营	412	221	451
	文化娱乐休闲服务	1489	1583	1115
	文化辅助生产和中介服务	15094	13899	13519
	文化装备生产	8378	5722	5893
	文化消费终端生产	16284	16532	18808
按产业类型分	文化制造业	38074	36739	37378
	文化批发和零售业	16728	14726	15173
	文化服务业	34454	35159	45964
按区域分	东部地区	68688	63702	73943
	中部地区	12008	13620	14656
	西部地区	7618	8393	9044
	东北地区	943	909	872

111.我国规模以上文化及相关产业企业中

- A. 3
- B. 4
- C. 5
- D. 6

【博思贤答案】 A

112.2020年,我国规模以上文化服务业企业

- A. 下降了不到5个百分点
- B. 下降了5个百分点以上
- C. 上升了不到5个百分点
- D. 上升了5个百分点以上

【博思贤答案】 D

113.2018~2020年,我国中部地区规模

- A. 1.0
- B. 1.5
- C. 2.0
- D. 2.5

【博思贤答案】 B

114.如不同区域规模以上文化及相关

- A. 2.0
- B. 2.4
- C. 2.8
- D. 3.2

【博思贤答案】 C

115.能够从上述资料中推出的是

- A. 2018~2020年,西部地区营业收入占全国比重逐年递增
- B. 2018~2020年,文化制造业累计营业收入高于文化服务业
- C. 2020年,营业收入同比增速最快和收入金额最低的行业是同一个
- D. 2018~2020年,新闻信息服务业营业收入都超过文化服务业的20%

【博思贤答案】 C

116.2020年上半年,S市工业战略性新兴产业

- A. 不到7%
- B. 7~10%
- C. 10~13%
- D. 超过13%

【博思贤答案】 A

117.将S市2021年上半年①信息传输、

- A. ②④①③

B. ②④③①

C. ①③②④

D. ①②④③

【博思贤答案】 D

118.2021 年上半年，S 市批发

A. 3

B. 5

C. 7

D. 9

【博思贤答案】 C

119.2020 年上半年，S 市新建

A. 16%

B. 20%

C. 24%

D. 28%

【博思贤答案】 A

120.能够以上述资料中推出的是：

A. 2021 年上半年，S 市网上商店零售额同比增速低于 20%

B. 2020 年上半年，S 市批发和零售业增加值超过 2000 亿元

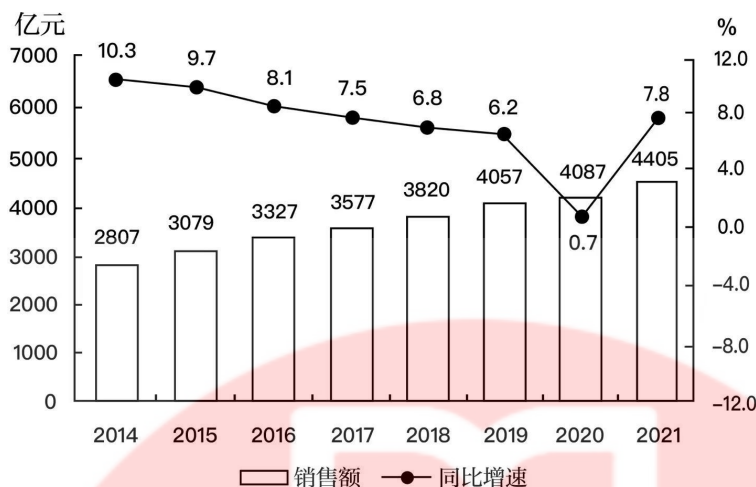
C. 2021 年上半年，S 市月均新建商品房销售面积不到 80 万平方米

D. 2021 年上半年，S 市高端装备产值占工业战略性新兴产业总产值的比重低于上年同期水平

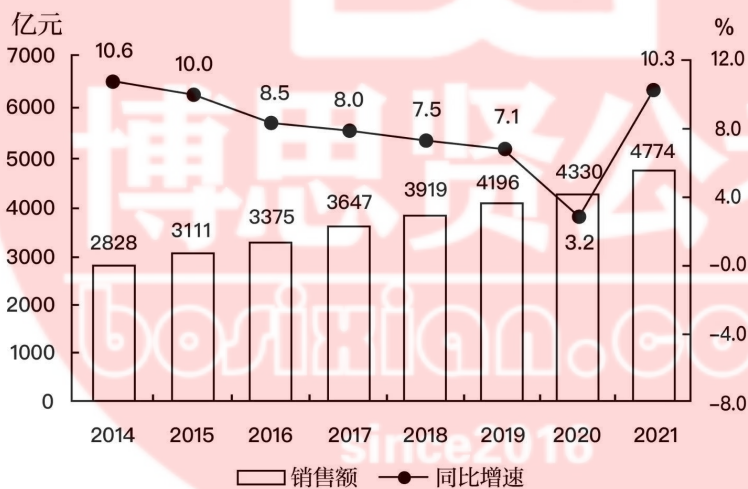
【博思贤答案】 B

零售药店终端包含实体药店和网上药店两大市场。2021 年，全国零售药店终端药品销售额 4774 亿元，同比增长 10.3%。...

2014~2021年全国实体药店市场药品销售额及同比增长



2014~2021年全国零售药店终端药品销售额及同比增长



121.2016~2020年, 全国零售药店

- A. 小于1.9万亿元
- B. 1.9~2万亿元
- C. 2~2.1万亿元
- D. 大于2.1万亿元

【博思贤答案】 B

122.2014~2021年间, 全国实体药

- A. 228
- B. 233

C. 238

D. 244

【博思贤答案】 A

123.2021 年，全国零售药店终

A. 1.3

B. 1.5

C. 1.7

D. 1.9

【博思贤答案】 D

124.2017~2021 年，全国网上药店

A. 2018 年

B. 2019 年

C. 2020 年

D. 2021 年

【博思贤答案】 C

125.能够从上述资料中推出的是：

A. 2021 年，全年，有 4 年全国网上国网上药店平均药品销售额是 2019 年的 3 倍多

B. 2014~2021 药店市场药品销售额超过 100 亿元

C. 2015 年，全国实体药店市场药品销售额是网上药店市场药品销售额的 100 倍以上

D. 2014~2021 年，全国零售药店终端药品销售同比增量最高的年份，实体药店市场药品同比增量也最高

【博思贤答案】 D

